

DARÜŞŞAFKA GİRİŞ SINAVI SINAV MERKEZLERİ

ADANA

Seyhan İsmet İnönü Mes. ve Tek. An. Lisesi Tel: 0322 454 26 76

AĞRI

Şeyh Edebalı İlkokulu Tel: 0472 215 12 16

ANKARA

Namık Kemal Ortaokulu Tel: 0312 425 24 05

ANTALYA

Başöğretmen Atatürk Ortaokulu Tel: 0242 312 66 70-71

BURSA

Setbaşı Ortaokulu Tel: 0224 327 75 11

DENİZLİ

Gazi İlkokulu Tel: 0258 263 50 06

DIYARBAKIR

Ali Emiri Ortaokulu Tel: 0412 228 05 51

ERZURUM

İsmetpaşa İlkokulu Tel: 0442 234 78 67

GAZİANTEP

Abdullah Kepkep İlkokulu Tel: 0342 230 31 42-43

İSTANBUL

Darüşşafaka Eğitim Kurumları Tel: 0212 939 28 00

İZMİR

Merkez Halit Bey İlkokulu Tel: 0232 262 47 22

KAYSERİ

Besime Özdereci Ortaokulu Tel: 0352 223 22 35

KONYA

Mümtaz Kuru İmam Hatip Ortaokulu Tel: 0332 351 12 22

MALATYA

Gazi İlkokulu Tel: 0422 323 13 81

MARDİN

13 Mart İlkokulu Tel: 0482 213 29 07

MERSİN

İleri Ortaokulu Tel: 0324 237 12 30

SAMSUN

Merkez Alparslan İlkokulu Tel: 0362 231 10 42

SİVAS

Behrampaşa Ortaokulu Tel: 0346 221 22 77

ŞANLIURFA

Fevzi Çakmak İlkokulu Tel: 0414 313 51 27

TRABZON

Cudibey Ortaokulu Tel: 0462 321 12 94

VAN

Hüsrev Paşa İlk ve Ortaokulu Tel: 0432 215 72 44

Darüşşafaka, birbirine
sevgiyle bağlı bireylerden oluşan,
şefkat dolu, büyük bir ailedir.

Darüşşafaka
1863 ORTAOKUL

Darüşşafaka Caddesi No: 5/9 34457 Maslak - İSTANBUL

Tel: (0 212) 939 28 00 - (0 212) 939 28 01

Faks: (0212) 286 31 77

www.darussafaka.k12.tr

DARÜŞŞAFKA GİRİŞ SINAVI

ORTAOKULDAN ÜNİVERSİTEYE ÜCRETSİZ VE
NİTELİKLİ EĞİTİM FIRSATI

- Annesi ve/veya babası hayatta olmayan
- Maddi olanakları yetersiz
İlkokul 4. sınıf öğrencileri

Bu fırsatı kaçırmayın...



Başvurular:

2 Ocak - 21 Mayıs 2018

Doğrudan Başvuru İçin Ayrıntılı Bilgi:

0212 276 55 33

www.darussafaka.k12.tr

Online Başvuru İçin:

https://basvuru.darussafaka.org

Darüşşafaka
1863 ORTAOKUL

NEDEN DARÜŞŞAFKA?



Her aile çocuğunun iyi bir eğitim almasını, başarılı olmasını, mutlu yaşamasını, ailesine ve ülkesine yararlı olmasını ister. Darüşşafaka, ailelere, çocuklarıyla ilgili hayallerini gerçekleştirmeleri için büyük bir fırsat sunuyor. Kuruluşumuzdan beri, bu fırsattan 155 yılda mezun ettiğimiz binlerce kişi yararlandı ve mezunlarımız, ülkemizin gelişiminde önemli alanlarda görevler üstlenerek tarih yazdı. Ülkemizin bütün çocuklarının iyi bir eğitim alma hakkı olduğunu düşünen hayırsever kişiler tarafından 1863'te kurulan Darüşşafaka; babası ve/veya annesi hayatta olmayan, maddi olanakları yetersiz, öğrenmeyi seven ve çalışkan çocuklara ücretsiz ve yatılı bir eğitim vermek üzere kapılarını açıyor. Darüşşafaka; her yıl sınavla belirlediği öğrencilerin eğitim, sağlık, beslenme, barınma, giyim gibi tüm gereksinimlerini karşılıyor; onları en iyi biçimde yetiştirerek liseden mezun ediyor; başarılı öğrencilerini üniversite eğitimleri süresince de burs vererek desteklemeye devam ediyor.



DARÜŞŞAFKA'DA FIRSATLAR

Eğitim - Öğretim

- ▶ Yetkin ana dil kullanımı
- ▶ Uluslararası standartlara uygun, üst düzeyde İngilizce öğrenimi
- ▶ İkinci yabancı dil fırsatı
- ▶ Dijital öğrenim, çağın gereklerine uygun etkin teknoloji kullanımı
- ▶ Laboratuvarlarda uygulamalı öğrenim
- ▶ Ulusal ve uluslararası sınavlara hazırlık programları
- ▶ Bireysel ve sosyal gelişimi destekleyen kulüp ve etkinlik seçenekleri

Kampüs

- ▶ Çağdaş teknolojiyle donanmış derslik ve laboratuvarlarda, bilgisayar / tablet destekli eğitim
- ▶ Tam donanımlı laboratuvarlar, zengin kütüphane
- ▶ Açık ve kapalı spor alanları; takım sporları, bireysel sporlar
- ▶ Planetaryum ve gözlemevi, bireysel ve sosyal becerileri geliştirmeye yönelik atölyeler, sanat odaları, hobi ve oyun alanları
- ▶ 24 saat sağlık hizmeti veren 28 yataklı revir
- ▶ 1200 öğrenci kapasiteli yatakhane

DARÜŞŞAFKA GİRİŞ SINAVI'NA KATILIM KOŞULLARI

- ▶ Annesinin ve/veya babasının hayatta olmaması
- ▶ Ailenin maddi olanaklarının iyi bir eğitim için yeterli olmaması
- ▶ 2007 ve sonrası doğmuş olması (Yaş düzeltmesi geçersizdir.)
- ▶ 2017-2018 öğretim yılında ilkokul 4. sınıf öğrencisi olması
- ▶ Beden ve ruh sağlığının yatılı okulda okumaya uygun olması
- ▶ T.C. vatandaşı olması

SINAV BAŞVURUSU VE İSTENEN BELGELER

Başvurular

- ▶ Doğrudan başvuru - Darüşşafaka Ortaokulu'na giderek yapılır. İstenen belgeler elden teslim edilir.
- ▶ Online başvuru - <https://basvuru.darussafaka.org> adresinden yapılır. İstenen belgeler elden veya postayla teslim edilir.
- ▶ Postayla başvuru - Doldurulmuş başvuru formu ve istenen belgeler postayla gönderilerek yapılır.

Belgeler

- ▶ Darüşşafaka Giriş Sınavı Başvuru Formu (doldurulmuş)
- ▶ Adayın okumakta olduğu ilkokul müdürlüğünden alınacak ve "ilkokul 4. sınıf öğrencisi olduğunu gösterir imzalı ve mühürlü belge" (Okul karnesi kabul edilmez.)
- ▶ Nüfus cüzdanı fotokopisi
- ▶ Vukuatlı Aile Nüfus Kayıt Belgesi (Suret, fotokopi, muhtar belgesi, ölüm tutanağı kabul edilmez.)
- ▶ Adayın iki (2) adet yeni çekilmiş vesikalık fotoğrafı



DARÜŞŞAFKA ORTAOKULU'NA KESİN KAYIT

- ▶ Sınavda başarılı olan adayların, kendilerine bildirilen tarihlerde Sağlık Kurulu'na girmek üzere Darüşşafaka Ortaokulu'na gelmeleri gerekmektedir.

Aday kaydının kesinleşmesi,

- ▶ Sağlık Kurulu'nun, öğrencinin yatılı okulda okumasına bir engel olmadığına ilişkin rapor vermesine,
- ▶ Darüşşafaka Ortaokulu tarafından belirlenen tarihlerde yapılacak olan mali durum araştırmasına bağlıdır.

Önemli Not: Okulun "Sağlık Kurulu" davetine uymayan, "mali durum araştırması" sürecine katılmayan aday, sınavda başarılı olsa da kayıt hakkını kaybeder.


1

1		2	
4	Çok Sıcak	A	Çorba
2	Soğuk	D	Kutuplar
3	Sıcak	B	Yanardağ
1	Çok Soğuk	C	Sonbahar

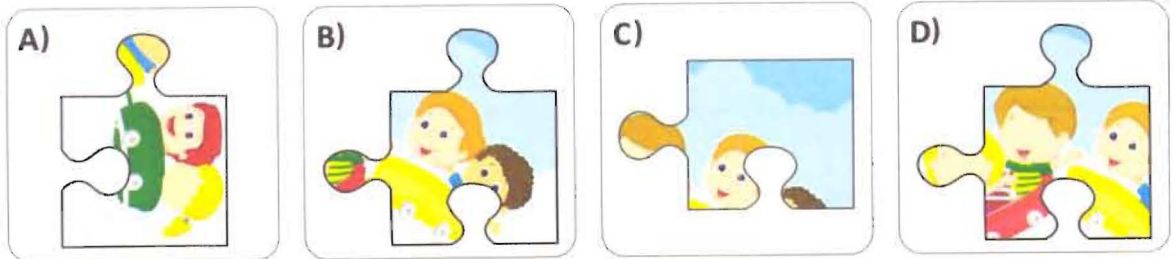
Yukarıda yer alan 1. ve 2. kutudakiler aşağıdakilerden hangisinde doğru olarak eşleştirilmiştir?

- A) 4-B, 2-C, 3-A, 1-D
B) 4-A, 2-B, 3-C, 1-D
C) 4-B, 2-A, 3-D, 1-C
D) 4-B, 2-C, 3-D, 1-A

2



Yukarıdaki resimdeki boşluğa aşağıdaki parçalardan hangisi gelmelidir?



3

Ceyda'nın ders çalışırken aşağıdakilerden hangisine ihtiyacı vardır?

- A) Basketbol topu
B) Kitap
C) Oyun dergisi
D) Bilgisayar oyunu


4

Bu dönem derslerime çok çalışıp sınavlardan not almalıyım. Derslerimde başarılı olursam çok istediğim telefon alınacak, bana. Yaz tatilinde de teyzelere gideceğimi öğrenince çok sevindim. Kuzenlerimle birlikte tatil yapacağım için çok Tatil için şimdiden alışverişe başladık. Kendime şort, tişört ve aldım. Kuzenlerime de çeşitli hediyeler aldık.

Yukarıdaki cümlede boş bırakılan yerlere sırasıyla hangileri gelmelidir?

- A) Düşük - Telaşlandım - Terlik B) Yüksek - Sinirlendim - Şapka
C) Yüksek - Mutluyum - Terlik D) Düşük - Üzüldüm - Şapka


5



Yukarıda okul araç ve gereçleri numaralandırılmıştır. Ahmet çantasına kitap, kalem, elma ve silgi koyacaktır. Buna göre Ahmet'in çantasına yerleştirmesi gereken araç ve gereçler aşağıda hangi şıkta doğru verilmiştir?

- A) 1 - 3 - 4 - 6 B) 2 - 4 - 6 - 7 C) 2 - 4 - 5 - 8 D) 2 - 3 - 6 - 7

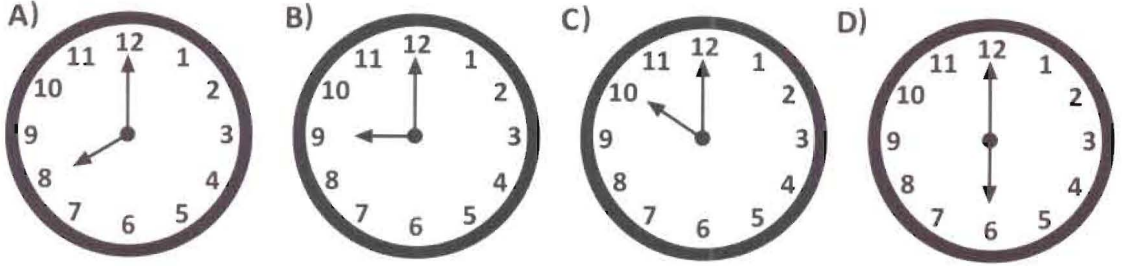
6



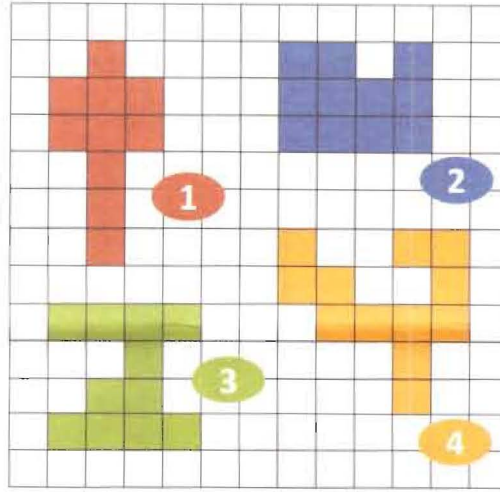
Yukarıdaki sayı dizisinde bir sayı kuralı bozmaktadır. Bu sayı hangisidir?

- A) 20 B) 26 C) 28 D) 32

1 Aşağıdaki saatlerden hangisinin akrep ve yelkovanı bir dar açı oluşturur?



2



Yukarıdaki düzlemsel bölgelerden hangisinin alanı en fazladır?

- A) 1 B) 2 C) 3 D) 4

3



Yukarıdaki yarış arabalarının üstünde yazan ondalık sayılar, arabaların aynı sürede aldıkları mesafeleri km cinsinden göstermektedir.

Buna göre, yukarıdaki arabalardan en hızlı olanı hangisidir?

- A) 1 B) 2 C) 3 D) 4

4



Alp yukarıdaki sayı doğrusu üzerinde verilen \triangle ve \square şekilleri yerine gelen kesirleri yazacaktır. Buna göre Alp'in yazdığı kesirler sırasıyla aşağıdakilerden hangisidir?

A) $\frac{3}{5}, \frac{12}{5}$

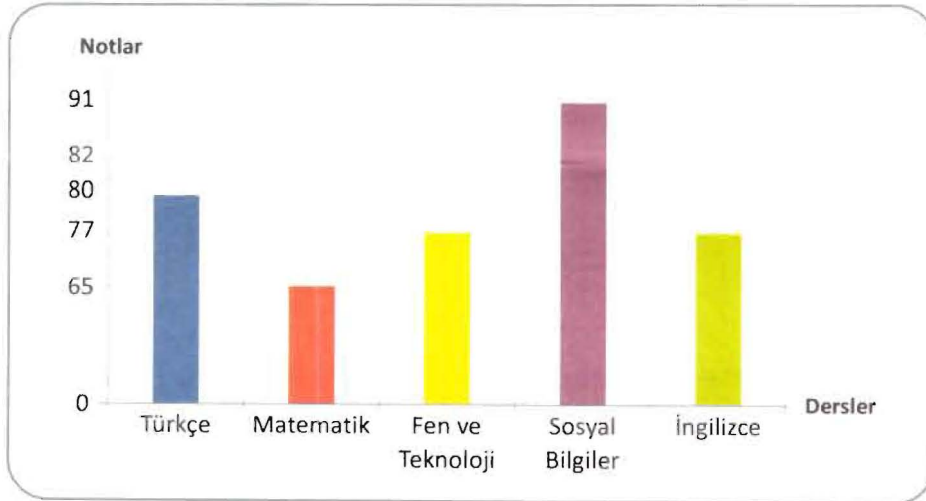
B) $\frac{4}{5}, \frac{13}{5}$

C) $\frac{2}{5}, \frac{3}{5}$

D) $\frac{3}{6}, \frac{14}{6}$

5

Aşağıdaki grafikte bir öğrencinin Türkçe, Matematik, Fen ve Teknoloji, Sosyal Bilgiler ve İngilizce sınavlarından aldığı puanlar gösterilmektedir.



Buna göre bu öğrencinin Sosyal Bilgiler dersinden aldığı not ile Fen ve Teknoloji dersinden aldığı not arasındaki fark kaçtır?

A) 5

B) 11

C) 14

D) 26

1 Aşağıdaki cümlelerde altı çizili sözcüklerden hangisi mecaz anlamda kullanılmıştır?

- A) Geçen akşam çok mutsuz görünüyordun.
- B) Dolaptaki bütün tabaklar kırılmış.
- C) Kapalıçarşı her zaman insan kaynar.
- D) Soğuk su içersen hasta olursun.

2



“Harcamak” sözcüğünün bu afişteki anlamı aşağıdakilerden hangisidir?

- A) Herhangi bir nesneyi bir şey yapmak için kullanmak, tüketmek
- B) Birinin ölmesine sebep olmak
- C) Bir kimseyi manevi yönden kötü duruma düşürmek, feda etmek
- D) Birinin değer ve onurunu kırıcı bir durum yaratmak

3 “Ağır” sözcüğü aşağıdaki cümlelerden hangisinde “yavaş” sözcüğünün eş anlamlısı olarak kullanılmıştır?

- A) Siyah araba ağır gidiyordu.
- B) Bu ağır sorumluluğu taşıyamıyorum.
- C) Ağır bir koku vardı odada.
- D) Teyzemin elindeki ağır poşetleri aldım.

- 4
1. Sonra sırasıyla süt, tahin ve cevizi de katıp karıştıralım.
 2. Kek yapmak için önce yumurtaları ve şekeri iyice çırıp içine pekmezi ilave edelim.
 3. Ceviz, süt ve tahini karıştırdıktan sonra unu, kabartma tozunu ve vanilyayı da başka bir kapta eleyip karışıma ekleyelim.
 4. Harcımızı yağlanmış ve unlanmış bir kek kalıbına döküp önceden ısıttığımız 180 derece fırında yaklaşık 30 dakika pişirelim.

Yukarıdaki cümlelerle anlamlı bir paragraf oluşturmak için sıralama nasıl olmalıdır?

- A) 2 - 1 - 3 - 4 B) 3 - 1 - 2 - 4 C) 2 - 3 - 4 - 1 D) 1 - 4 - 3 - 2

- 5
- Kayapo yerlileri adlı kabile, Amazon Yağmur Ormanları'nın derinliklerinde, hasırdan kulübelerde yaşarlar. Kabilenin adı "maymun gibi" anlamına gelir. Bu ismin kaynağı, her yıl düzenlenen bir kutlama sırasında kabile erkeklerinin maymun maskeleriyle yaptığı danstır.

Bu parçadan "Kayapo yerlileri" ile ilgili aşağıdaki bilgilerden hangisine değinilmemiştir?

- A) Amazon yağmur ormanlarının derinliklerinde yaşadıklarına
B) "Kayapo" adının anlamının "maymun gibi" olduğuna
C) Ulaşım için kayıkları kullandıklarına
D) Hasırdan kulubelerde yaşadıklarına

7



Aşağıdakilerden hangisi yukarıda yer alan kekler arasında bulunmamaktadır?

A)



B)



C)



D)



8

G	E	K	L	U	D
E	T	T	N	İ	S
K	S	A	E	L	E
Y	İ	E	R	M	F
A	H	D	İ	A	R
M	U	İ	P	Ş	K

Yukarıdaki harf tablosunda dikey, yatay ya da çapraz olarak aşağıdaki kelimelerden hangisi bulunmaktadır?


A) ETEK

B) KABA

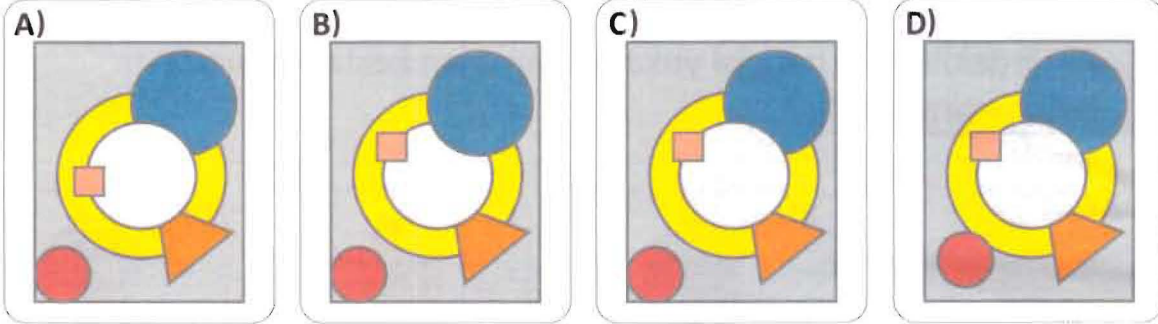
C) TARAK

D) RADAR

9



Yukarıdaki şekiller üst üste getirildiğinde seçeneklerdeki şekillerden hangisi oluşur?



10

Aşağıdaki tabloda öğrencilerin derslerden 1. ve 2. sınavda aldığı notlar yer almaktadır. 5 en yüksek not, 1 en düşük nottur.

Öğrenciler	Matematik		Türkçe		Sosyal Bilgiler		Fen	
	1.Sınav	2.Sınav	1.Sınav	2.Sınav	1.Sınav	2.Sınav	1.Sınav	2.Sınav
Ali	4	5	4	5	3	4	5	5
Ayşe	5	4	4	5	4	4	3	5
Berk	3	5	3	5	4	4	3	4
Buse	5	4	3	4	3	5	5	3

Buna göre aşağıdakilerden hangisi yanlıştır?

- A) Tüm öğrenciler Türkçe dersinden 2. sınavda 1. sınavı göre daha yüksek not almışlardır.
- B) Ali'nin ve Buse'nin 1. ve 2. sınavda Matematik dersinden aldıkları notların toplamı birbirine eşittir.
- C) Ayşe ve Berk'in Sosyal Bilgiler dersinden 1. ve 2. sınavda aldıkları notlar birbirinden farklıdır.
- D) Fen dersinden en düşük notları 1. sınavda Ayşe ve Berk, 2. sınavda Buse almıştır.